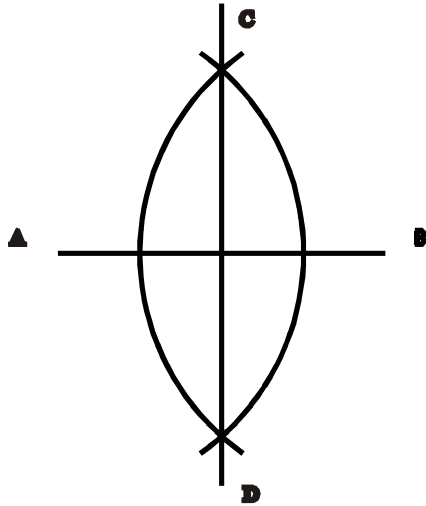
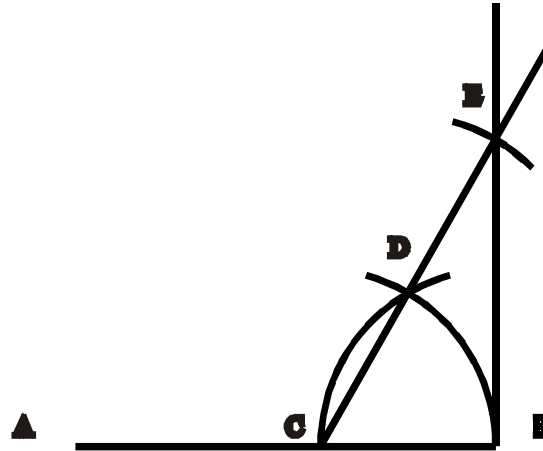


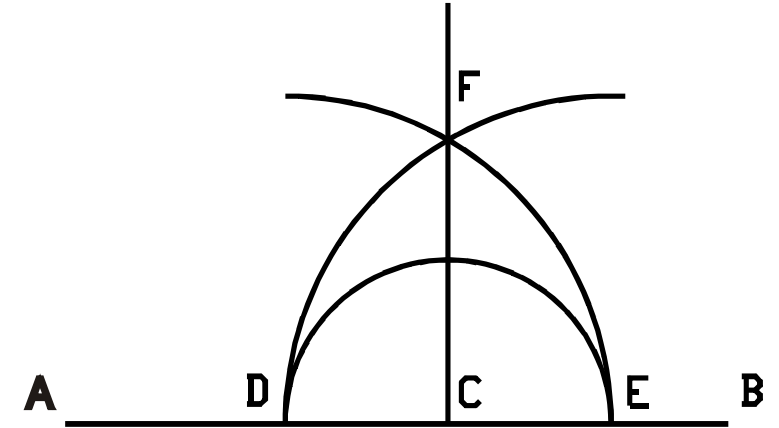
1. TRAZAR LA PERPENDICULAR EN EL PUNTO MEDIO DE UNA RECTA



2. TRAZAR UNA PERPENDICULAR EN EL EXTREMO DE UNA RECTA



3. TRAZAR LA PERPENDICULAR QUE PASE POR UN PUNTO PERTENECIENTE A LA RECTA



- 1) Trazar la recta AB
- 2) Con centro en A y B trazar dos arcos iguales que se corten en puntos C y D
- 3) Unir con una recta los puntos C y D

- 1) Trazar una recta AB
- 2) Con centro en B trazar un arco que corte a la recta AB
- 3) Con centro en C trazar arco de igual radio CB
- 4) Prolongar una recta desde punto C que pase por punto D
- 5) Con centro en D trazar arco de igual radio DC que corte a la recta
- 6) Unir con una recta los puntos B y E

- 1) Trazar una recta AB
- 2) Con centro en C trazar media circunferencia que corte a la recta en dos puntos
- 3) Con centro en D y E trazar arcos de radio DE
- 4) Unir con una recta los puntos C y F

I. E. M. TECNICO INDUSTRIAL PASTO

ACTIVIDAD 8

JULIO 10 DE 2020

CONSTRUCCIONES GEOMETRICAS

NOMBRE:

CURSO 6-10

ESCALA 1:1

DISEÑO GENERAL